

II.LANGUE ET COMMUNICATION

A) RESSOURCES

TEXTE

Grand-mère est une vieille dame aux cheveux gracieux qui brillent comme le soleil. Avec le poids de l'âge son front large s'est couvert de profondes rides. Ses yeux globuleux et vifs bougent sans cesse. Ses joues creuses signalent l'absence de plusieurs dents. Elle est honnête et bienveillante, ce qui la rend attachante pour les gens qui la côtoient.

COMPREHENSION

1. Donne un titre au texte : **R** : Grand-mère (2pts)

2. Trouve les phases justes ou fausses en mettant oui ou non
 - a) Grand-mère a toutes ses dents. **non** (2pts)
 - b) Elle est une bonne personne. **oui** (2pts)
 - c) grand-mère a la peau lisse. **non** (2pts)

3. explique :

côtoient : fréquentent, approchent, rencontrent(2pts)

sans cesse : sans répit, continu (2pts)
4. Quel type de texte avons-nous ? Mets une croix devant la bonne réponse. (2pts)

Narratif Descriptif informatif argumentatif

5. Donne la nature et la fonction des mots soulignés dans le texte.

Mots	Nature (1pt/ mot)	Fonction (1pt/mot)
gracieux	Adjectif qualificatif	Epithète de cheveux
Plusieurs dents	Groupe nominal	Complément du nom absence
la	Pronom personnel	COD de rend
joues	Nom commun de chose	Sujet de signalent

6. « De profondes rides couvrent son front. »
 1. Donne :

L'infinitif du verbe : couvrir (1pt) **son groupe** : 3^{ème} groupe (1pt)
 2. Mets cette phrase aux temps suivants :

Imparfait : de profondes rides **couvraient** (2pts)

Futur simple : de profondes rides **couvriront..**(2pts)

Passé composé : de profondes rides **ont couvert** (2pts)

DICTEE : /10 (2pts par mot)

Texte

La case de mon oncle était en banco. La pluie précédée d'un vent violent l'a détruite. Malheureusement pour lui, il n'avait pas où dormir. Mon oncle a passé cette nuit à la belle étoile.

PRODUCTION D'ÉCRITS

Contexte

Le gouvernement scolaire a décidé de sélectionner les meilleurs textes descriptifs qu'il va mettre dans le journal de l'école. Tu es choisi pour représenter ta classe.

Consigne : Décris en 8 lignes au moins un lieu de ton choix.

Critères	Indicateurs	Notes
Pertinence	Tout le texte décrit un lieu	20
	Les 2 tiers du texte décrivent un lieu	15
	La moitié du texte décrit un lieu	10
	Le tiers du texte décrit un lieu	5
	Tout le texte ne décrit pas un lieu	0
Cohérence	Toutes les phrases sont en lien	15
	Les 2 tiers des phrases sont en lien	11
	La moitié des phrases est en lien	7
	Le tiers des phrases est en lien	3
	Aucune phrase n'est en lien	0
Correction de la langue	Il n'y a pas de fautes de grammaire, de conjugaison, d'orthographe, de syntaxe...	15
	1 à 3 fautes de grammaire, de conjugaison...	12
	De 4 à 7 fautes	9
	De 8 à 10 fautes	6
	Plus de 10 fautes	0
Présentation	Il n'y a pas de rature/ ou de surcharge / bien lisible / et la mise en page est correcte, aérée /	10
	Présence d'un élément (rature ou surcharge ou illisibilité ou mise en page défectueuse ou mal aérée)	7
	Présence de deux éléments (rature ou surcharge ou illisibilité ou mise en page défectueuse ou mal aérée)	4
	Présence de trois éléments (rature ou surcharge ou illisibilité ou mise en page défectueuse ou mal aérée)	1
	Présence de tous les éléments (rature ou surcharge ou illisibilité ou mise en page défectueuse ou mal aérée)	0

✓ RESSOURCES

I. ACTIVITES NUMERIQUES

a) Ecris en chiffres:

un million cent vingt cinq : **1.000.125** (2pts)

34 unités 5 dixièmes : **34,5** (2pts)

b) Pose et effectue les opérations suivantes :

$8792,97 + 451,023 = 9243,993$ (2pts)


$525,5 : 2,5 = 210,2$ (2pts)

$369,3 \times 7,05 = 2603,565$ (2pts)

II. ACTIVITES DE MESURE :

Une caisse vide pèse 500g.

Remplie de fruits, elle pèse 2,500kg



Consigne : donne la masse de fruits dans la caisse : **2kg** (2pts)

Que représente cette masse ? : c'est **la masse nette** (2pts)

Convertis et effectue :

$24,75 \text{ dam} + 17 \text{ hm } 9\text{m} = 1956,5 \text{ m}$ **1pt**

$24,75 \text{ dam} = 247,5 \text{ m}$ **1pt**

$17\text{hm } 9\text{m} = 1709 \text{ m}$ **1pt**

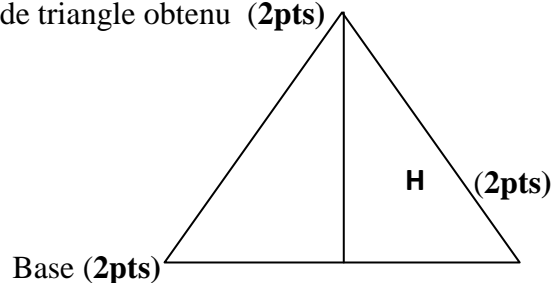
$9785,25 \text{ hl} - 160 \text{ l} = 97836,5 \text{ dal}$ **1pt**

$9785,25 \text{ hl} = 97852,5 \text{ dal}$ **1pt**

$160 \text{ litres} = 16\text{dal}$ **1pt**

III. ACTIVITES DE GEOMETRIE

- Construis un triangle ayant deux côtés égaux mesurant 4cm. (bon triangle **4pts**) (autre **2pts**)
- Trace une hauteur (**2pts**)
- Indique sa base (**2pts**)
- Donne le type de triangle obtenu (**2pts**)



Triangle isocèle (**2pts**)

IV. RESOLUTION DE PROBLEME

Ton oncle, commerçant veut faire le bilan de ses 2 semaines d'activités.

Il te demande de l'aider à remplir le tableau suivant.

Semaines	Recettes	Dépenses	Bénéfice	Perte
1 ^{ère} semaine	95250 f	59815f	35815f 2,5	(2,5)
2 ^{ème} semaine	127505f	235250f	(2,5)	107745f (2,5)

Consigne : calcule le bénéfice ou la perte et barre la case inutile

Corrigé_Épreuves de mathématique CM1

✓ COMPÉTENCE /60

Ton père dispose de 325.000f. Il achète 9 sachets de lait à 3600f les 3 sachets, 25 litres d'huile à 1200f le litre et remet 175.000f à maman pour la dépense mensuelle.

Il prévoit d'acheter un écran plat à 250.000f.

Trouve la dépense totale effectuée par ton père.

Papa pourra – t- il- acheter l'écran plat ?

Si oui trouve combien il lui reste ;

Si non combien il lui manque.

Consigne : résous le problème

Le prix des 9 sachets **4pts**

$$1500f \times 9 = 13.500f \quad \mathbf{7pts}$$

Le prix de l'huile **4pts**

$$1200f \times 25 = 30.000f \quad \mathbf{7pts}$$

La dépense totale **4pts**

$$175.000f + 30.000f + 13.500f = 218.500f \quad \mathbf{7pts}$$

La somme qui lui reste **4pts**

$$325.000f - 218.500f = 106.500f \quad \mathbf{7pts}$$

Non il ne pourra pas acheter le téléviseur **5pts**

Il lui manque **4pts**

$$250.000f - 106.000f = 143.500f \quad \mathbf{7pts}$$

Corrigé _Découverte du Monde CM1

A. RESSOURCES/24pts

I.HISTOIRE/8pts

Consigne : remplis le tableau

Royaumes	Titres	Capitales
Djolof	Bourba (2pts)	Yang yang (2pts)
Baol	Teigne (2pts)	Lambay (2pts)

II.GEOGRAPHIE/8

Contexte :

1) Donne :

- deux ressources du sous-sol : pétrole, or, **2pts**
- deux ressources de l'eau : sel, poissons, crustacées.... **2pts**

2) Voici des produits cultivés au Sénégal : mil, riz, coton, niébé, arachide, sorgho, tomate, canne à sucre.

Consigne : place les correctement dans le tableau suivant

Cultures industrielles 0,5pt/ produit	Cultures vivrières 0,5pt/ produit
Coton, tomate, canne à sucre, arachide	Mil, riz, niébé, sorgho

III.IST/8

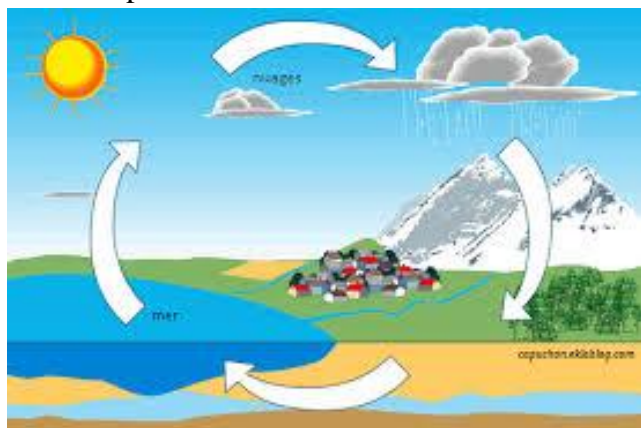
Relie par une flèche chaque instrument à son utilité :

Instruments	Utilités
Baromètre	Soulever un objet lourd 2pts
Thermomètre	Mesurer la température 2pts
Levier	Indiquer la direction du vent 2pts
	Mesurer la pression atmosphérique 2pts

B. COMPETENCE/16pts

Contexte

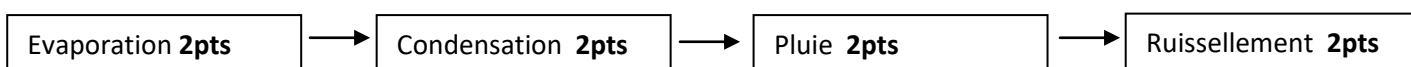
Voici un phénomène :



1. Nomme-le :

R : ... le cycle de l'eau **4pts**

2. Indique dans l'ordre ses différentes étapes :



3. Au cours de ce phénomène dis les différents états sous quels s'est présentée l'eau ?

R : l'eau s'est présentée sous les états *liquides* (**2pts**) et *gazeux* (**2pts**)

Corrigé _DEVELOPPEMENT DURABLE CM1

RESSOURCES/24 pts

I. VIVRE ENSEMBLE

a) voici des activités : sport, alphabétisation, théâtre, transport

consigne : écris devant chacune des organisations locales suivantes, l'activité menée

ASC :... sport, théâtre **4pts**

GIE :... transport **2pts**

GPF :... alphabétisation **2pts**

b) Parmi ces types d'organisations locales, entoure celles qui interviennent dans la gestion de l'école

GIE — APE — ASC — CGE — GPF
2pts **2pts**

II. VIVRE DANS SON MILIEU

a) Parmi les symptômes suivants, mets une croix devant les quatre qui sont de la tuberculose pulmonaire:

- Maux de tête **2pts**
- Crachats accompagnés de sang **2pts**
- Ecoulement du nez **2pts**
- Toux sèches et régulières **2pts**
- Amaigrissement **2pts**
- Perte d'appétit **2pts**

COMPETENCE/16pts

Contexte :

Tu habites une zone à côté d'une route très fréquentée, où on a implanté une usine de fabrication de ciment. Beaucoup d'habitants se plaignent de toux persistante, de douleur thoracique et respirent difficilement.

De quel type de maladies souffrent ces populations ? Cites-en deux puis donne deux mesures préventives.

Consigne : remplis le tableau

Type de maladies	2 exemples	Mesures
Maladies respiratoires 4pts	Pneumonie, asthme .. 4pts	Aération des locaux, éviter les allergènes, bien se couvrir.... 2pts
	Bronchite... 4pts	Bien se couvrir..... 2pts