

HALWAR GROUPE SCOLAIRE

EXERCICES DE MAISON AVRIL CE2 2019-2020

Nom de l'élève :

Langue et Communication

Contrôle des ressources 30 points

Consigne : Lis le texte et réponds aux questions qui te sont posées

Texte :

A l'occasion de la cérémonie de distribution de prix, l'Inspection de l'Education et de la Formation de Thiès-département a le plaisir de vous compter parmi ses invités. La manifestation aura lieu le samedi 22 décembre 2019 dans la grande salle de la mairie, à partir de 9 heures. L'artiste invité du jour est le chanteur Youssou Ndour.

Venez fêter vos enfants !

I- Compréhension du texte : 5 pts

1) Mets une croix devant la bonne réponse

Dans ce texte, on organise : 1 pt

-un mariage

-une distribution de prix

-une fête de fin d'année

2) Complète les informations ci – dessous en donnant :

-la date de l'événement: 1 pt

-l'heure de l'événement : 1 pt

-le lieu de l'événement : 1 pt

3) Mets une croix devant la bonne réponse 1 pt

Ce texte est de type :

-Narratif

-Injonctif

-Informatif

II- Vocabulaire : 4 pts

1) Relève dans le texte un synonyme de cérémonie :2 pts

2) Trouve un mot de la même famille que : invité : 2 pts

III- Grammaire : 3 pts

1) Réponds par **vrai** ou **faux**

Le texte compte trois phrases 1pt

2) Sépare les termes de cette phrase par des traits verticaux en précisant le nom de chacun. 2 pts

Les élèves balayent la classe.

IV- Conjugaison : 4 pts

La manifestation aura lieu le samedi.

Le verbe de la phrase est : au présent – au futur – au passé

Ecris la bonne réponse : 2 pts

1) Mets le verbe de la phrase à l'imparfait de l'indicatif

La manifestationlieu le samedi. 2 pts

V- Orthographe : 4 pts

1) Donne le féminin du mot (1pt par mot trouvé) :

Le chanteur

Un neveu

Un instituteur

Un ami

Dictée (10pts) Corrige les erreurs contenues dans le texte suivant (2 pts par mot trouvé) :

Chère Aminata

C'est parce que tu est (.....) mon amie que je sui (.....) heureuse de t'inviter à venir célébrer mont (.....) anniversaire qui aurat (.....) lieu le 23 décembre à 18h. La fête sera bel (.....).

Nom de l'élève :

Evaluation de la compétence

Contexte : Ta famille prépare un événement important (mariage, chants religieux, anniversaire). Tes parents te demandent de les aider à faire les cartes d'invitation.

Consigne : Rédige, en 6 lignes au maximum, une carte d'invitation que tu leur proposes.

.....

.....

.....

.....

.....

.....

.....

.....

.....

.....

.....

.....

.....

.....

.....

.....

.....

.....

.....

.....

.....

.....

HALWAR GROUPE SCOLAIRE
EXERCICES DE MAISON AVRIL CE2 2019-2020

Nom de l'élève :

Epreuves de mathématiques

Contrôle des Ressources

40 points

ACTIVITES NUMERIQUES/10 points

1) Range les nombres par ordre croissant (2pts)

2632 – 10906 – 9932 – 10609 :

2) Ecris (4pts)

-en lettres : 2019

-en chiffre : huit mille sept cent sept

3) Pose et effectue (4pts . NB : donner 0,5pt par opération bien posée,)

$7462 + 247 + 3302 =$	$9230 - 6432 =$

ACTIVITES DE MESURE/10points

1)Relie le produit à l'unité de mesure correspondante (6pts)

-le pétrole

-Le litre

-le riz

-le mètre

- le tissu

-le kilogramme

2) Convertis (4pts)

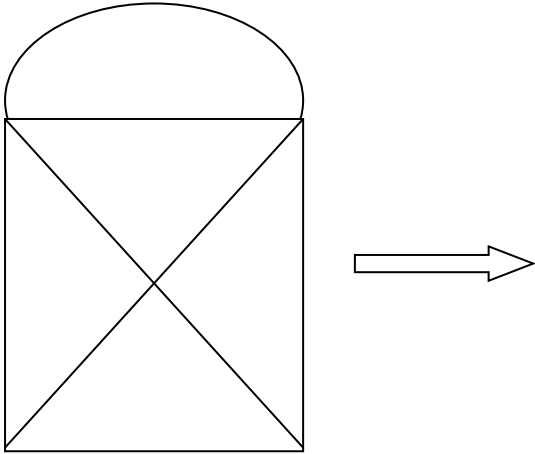
12 km = m

-Convertis puis effectue

28 hm – 175 dam = m

ACTIVITES GEOMETRIQUES/10points

1)Reproduis le dessin (4 pts)



2)Nomme les lignes qui composent ce dessin (6pts)

.....

.....

.....

.....

ACTIVITES DE RESOLUTION DE PROBLEME/10points

Contexte : Pour préparer ton anniversaire, papa te donne 10 000F. A 8h, tu vas au marché accompagné de tes 3 amis. Tu achètes un poulet à 3000F, une caisse de canettes à 4500F et un gâteau à 1200F.

- Trouve la somme dépensée.
- Trouve la somme qui te reste.

Consigne : Complète le tableau ci – dessous :

Données utiles (6pts)	Données inutiles (4pts)

HALWAR GROUPE SCOLAIRE

EXERCICES DE MAISON AVRIL CE2 2019-2020

Nom de l'élève :

Evaluation de la compétence 20 points

Contexte : Pour t'aider à préparer le concours du meilleur élève en mathématique, le maître te propose l'exercice suivant :

Énoncé : Une course de vélo se déroule en trois étapes entre deux villes. La distance entre ces deux villes est de 12500 m. A la première étape, les coureurs parcourent 5950 m et à la deuxième étape 4050 m.

Consigne : Calcule la distance qu'il leur reste à parcourir.

Raisonnement	Résultats	Opérations

HALWAR GROUPE SCOLAIRE

EXERCICES DE MAISON AVRIL CE2 2019-2020

Nom de l'élève :

Epreuves de Découverte du Monde

I- Contrôle des Ressources 20 points

HISTOIRE : 5pts (soit 1pt par bonne réponse)

Contexte : Voici des activités pratiquées par l'homme : **la cuisson des aliments, la cueillette, l'agriculture, la pêche avec des bateaux** et **habitation dans des grottes**.

Consigne : Classe les informations soulignées dans le tableau suivant :

Hier	Aujourd'hui
.....
.....

I.S.T. 5pts (soit 1pt par correspondance juste)

Consigne : Relie chaque organe au sens correspondant

- | | | |
|------------|-------------|-------|
| -La langue | -l'odorat | 1 pts |
| -l'œil | -l'ouïe | 1 pts |
| -la peau | -le gout | 1 pts |
| -le nez | -la vue | 1 pts |
| -l'oreille | -le toucher | 1 pts |

GEOGRAPHIE : 10 pts

1) Cite les points cardinaux (4pts) :

2) Complète les phrases suivantes : (6pts)

La nuit comme le jour on s'oriente à l'aide de la 2 pts

Un repère est un élément fixe qui permet de se 2 pts

Pour comprendre une carte il faut lire la 2 pts

II- Evaluation de la compétence 10 points

Contexte : Pour la composition, votre maître vous demande de réviser toutes les leçons portant sur l'objectif d'apprentissage suivant : savoir s'orienter.

Consigne : Tu dois rendre compte à ton groupe. Pour cela :

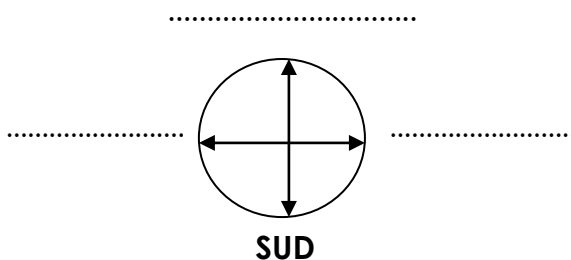
Indique-leur :

- quatre moyens pour s'orienter :

1.....2.....

3.....4.....

- complète le schéma avec les points cardinaux qui manquent:



HALWAR GROUPE SCOLAIRE

EXERCICES DE MAISON AVRIL CE2 2019-2020

Nom de l'élève :

Education au Développement Durable

Contrôle des Ressources 20 points

VIVRE ENSEMBLE : 10pts (soit 2pts par réponse juste)

Consigne : Mets « **bonne** » ou « **mauvaise** » devant ces habitudes

- 1) Faire tes exercices à temps. (.....)
- 2) Monter dans une voiture quand un inconnu te propose de t'amener.(.....)
- 3) Se moquer d'un camarade qui bègue en parlant.(.....)
- 4) Laisser le robinet couler après usage.(.....)
- 5) Pardonner à ton camarade qui casse ta règle sans le faire exprès.(.....)

VIVRE DANS SON MILIEU : (10pts)

Consigne : Complète ce tableau sur le paludisme

1 Cause	2 Manifestations	2 solutions
-	-	-
	-	-

Evaluation de la compétence(10pts)

Contexte : A l'école comme à la maison, les élèves ont des devoirs : sens de la coopération, discrétion, entraide, hospitalité, sens de la dignité, participer à la vie de l'établissement, assistance, respect du camarade, patriotisme, entretien du matériel de l'école.

Consigne : classe chaque devoir dans la grille qui convient.

Devoirs à la maison	Devoirs à l'école

EXERCICES DE MAISON AVRIL CE2 2019-2020

Nom de l'élève :


Education artistique 10 points

Contexte : Un concours de dessin est organisé dans ton école. Les meilleures productions sont récompensées. Tu es désigné pour représenter ta classe.



Un ballon

Consigne : Dessine le modèle suivant et colorie-le



Correction épreuves Langue et communication CE2

Corrigé des Ressources 30points

I- Compréhension du texte : **4 pts**

1) Mets une croix devant la bonne réponse

Dans ce texte, on organise : -**une distribution de prix** ☒ 1 pt

2) Complète les informations ci – dessous

Date et heure de l'événement : **le samedi 22 Décembre 2019 à 9h** 1 pt

Lieu de l'événement : **la grande salle de la mairie** 1 pt

3) Mets une croix devant la bonne réponse

Ce texte est de type : -**Informatif** 1 pt

II- Vocabulaire : **4 pts**

1) Donne dans le texte un synonyme de : **cérémonie = manifestation** 2 pts

2) Trouve un mot de la même famille que : **invité = invitation, inviter** 2 pts

III- Grammaire : **4 pts**

1) Réponds par vrai ou faux

-Le texte compte trois phrases : **faux** 1 pt

2) Les élèves | balayent | la classe. 3 pts

Les élèves : **sujet** est : **balayent** la classe : **complément**

IV- Conjugaison : **4 pts**

La manifestation aura lieu le samedi.

1) Le verbe de la phrase est : 2 pts

Au présent – **au futur** – au passé

Souligne la bonne réponse

2) Mets le verbe la phrase à l'imparfait de l'indicatif : La manifestation **avait** lieu le samedi 2 pts

V- Orthographe : **4 pts** (1pt par mot trouvé)

1) Donne le féminin du mot : chanteur – neveu – instituteur – frère

Chanteur : **chanteuse** ; neveu : **nièce** ; instituteur : **institutrice** ; frère = **sœur**

Dictée 10 pts (2pts par mot trouvé)

Chère Aminata

C'est parce que tu **es** mon amie je **suis** heureuse de t'inviter à venir célébrer **mon** anniversaire qui **aura** lieu le 25 décembre à 17h. La fête sera **belle**

CORRECTION DE LA COMPETENCE (20 points)

PERTINENCE : 08 points

COHERENCE : 05 points

CORRECTION DE LA LANGUE : 04 points

PRESENTATION : 03 points

Correction épreuves Mathématiques CE2

Corrigé des Ressources 40points

I) Activités numériques

1) Range les nombres par ordre croissant (2pts)

2632 – 9932 – 10609 – 10906

2) Ecris (4pts)

2019 : **deux mille dix-neuf** huit mille sept cent sept : **8707**

3) Pose et effectue (4pts)

$7462 + 247 + 3302 = \mathbf{11\ 011}$ $9230 - 6432 = \mathbf{2798}$

II) Activités de mesure

1) Relie le produit à l'unité de mesure correspondante (6pt)

- le pétrole -Le litre
- le riz - le kilogramme
- le tissu -le mètre

2)- Convertis (4pts)

12 km = **12000 m** -Convertis puis effectue : $2800\text{ m} - 1750\text{ m} = \mathbf{1050\text{ m}}$

IV) Activités géométriques

1) Reproduis le dessin : 4pts (1pt par ligne trouvée)

2) Nomme les lignes qui composent ce dessin (6pts 1,5pt/rep)

Ligne verticale, ligne horizontale, ligne courbe, ligne oblique.

V) Résolution de problème :

Pour préparer ton anniversaire, ton papa te donne 10 000F. Tu vas au marché à 8h, accompagné de tes 3 amis. Tu achètes un poulet à 3000F, une caisse de canettes à 4500F et un gâteau à 1200F.

- Quelle est la dépense?
- Combien te reste-t-il ?

Consigne : Complète le tableau ci-dessous

Données utiles (6pts)	Données inutiles (4pts)
3000F, 650F, 1200F 10000F	8h, 3 amis

Evaluation de la compétence : (20pts)

Corrigé :

La distance parcourue : (3pts)

$5950\text{m} + 4050\text{m}$ (3pts) = $10\ 000\text{m}$ (4pts)

Distance qui reste à parcourir : (3pts)

$12500\text{m} - 10\ 000\text{m}$ (3pts) = 2500m (4pts)

HISTOIRE 5pts

Hier	Aujourd'hui
la cueillette 1pt habitation dans des grottes 1pt	l'agriculture. 1pt la pêche avec des bateaux 1pt cuisson des aliments 1pt

I.S.T. 5 pts

Consigne : relie chaque organe au sens correspondant

- La langue : -le gout 1pt
- l'œil : - la vue 1pt
- la peau : - le toucher 1pt
- le nez :- l'odorat 1pt
- l'oreille :- l'ouïe 1pt

GEOGRAPHIE : 10 pts

- 1) Cite les points cardinaux : **l'Est, l'Ouest, le Nord et le Sud** 4 pts (1pt par rép)
- 2) Complète les phrases suivantes :
 - La nuit comme le jour on s'oriente à l'aide de la **boussole** 2 pts
 - Un repère est un élément fixe qui permet de se **situer** 2 pts
 - Pour comprendre une carte il faut la **légende** 2 pts

Evaluation de la compétence 10 pts

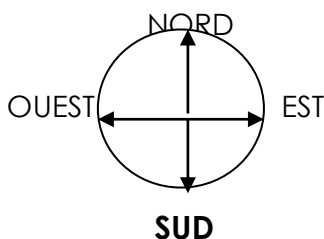
Contexte : Pour la composition, votre maitre vous demande de réviser toutes les leçons portant l'objectif d'apprentissage : savoir s'orienter.

Consigne : Tu dois rendre compte à ton groupe. Pour cela :

Indique-leur :

- quatre moyens pour s'orienter : **Mosquée, soleil, étoile polaire, boussole, etc.** (4 pts)

- les points cardinaux : **l'est, l'ouest, le nord et le sud** (6 pts)



Corrigé des Ressources 20points

VIVRE ENSEMBLE : (10 pts)

- 1) Faire tes exercices à temps : **bonne** 2 pts
- 2) Monter dans sa voiture quand un inconnu te propose de t'amener : **mauvaise** 2 pts
- 3) Se moquer d'un camarade qui bègue en parlant : **mauvaise** 2 pts
- 4) Laisser le robinet coulé après usage : **mauvaise** 2 pts
- 5) Pardoner à ton camarade qui casse ta règle sans le faire exprès : **bonne** 2 pts

VIVRE DANS SON MILIEU : (10pts)

Consigne : Complète ce tableau pour le lui envoyer

1 Cause	2 Manifestations	2 solutions
-pique de l'anophèle femelle, eaux stagnantes et toutes autres bonnes réponses 2 pts	-forte fièvre, vomissement, perte d'appétit, courbature, frissonnement et toutes autres bonnes réponses 4 pts	-utiliser des insecticides -dormir sous moustiquaire et toutes autres bonnes réponses 4 pts

Evaluation de la compétence 10 pts

Contexte : A l'école comme à la maison, les élèves ont des devoirs : sens de la coopération, discrétion, entraide, hospitalité, sens de la dignité, participer à la vie de l'établissement, assistance, respect du camarade, patriotisme, entretien du matériel de l'école.

Consigne : classe chaque devoir dans la grille qui convient. 1 pt par réponse trouvée

Devoirs à la maison	Devoirs à l'école
sens de la coopération, discrétion, entraide, hospitalité, sens de la dignité, assistance	respect du camarade, patriotisme, participer à la vie de l'établissement, entretien du matériel de l'école.

RECITATION/CHANT/10POINTS